































Rechenrätsel 4

Finde heraus welches Bild welche Zahl ist.

Du musst das Blatt nicht unbedingt ausdrucken, du kannst auch einfach das Matheheft oder ein Schmierblatt verwenden.

	+		+		+		+		=	18
	+		+		+		+		=	50
	+		+		+		+		=	104
	+		+		+		+		=	68
	+		+		+		+		=	32

	=	_____		=	_____		=	_____
	=	_____		=	_____			