



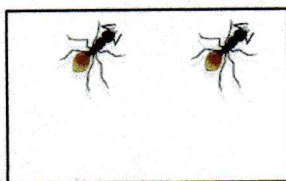
# 6er-Reihe



1) Die Zahlen 1- 60. Male die Zahlen der 6-er Reihe **orange** aus, kreise die Zahlen der 3er-Reihe **rot** ein.


1	2	3	4	5	6	7	8	9	10
11	12	13	14	15	16	17	18	19	20
21	22	23	24	25	26	27	28	29	30
31	32	33	34	35	36	37	38	39	40
41	42	43	44	45	46	47	48	49	50
51	52	53	54	55	56	57	58	59	60

2) Schreibe zum Bild eine Malaufgabe der 6er-Reihe und deren Tauschaufgabe. Tipp: Achte auf die Beine der Ameise.




$2 \cdot 6 = 12$

$6 \cdot 2 = 12$



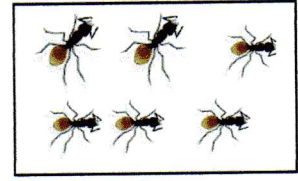
$7 \cdot 6 = 42$

$6 \cdot 7 = 42$



$3 \cdot 6 = 18$

$6 \cdot 3 = 18$



$6 \cdot 6 = 36$

3) Richtig oder falsch? Setze einen Haken ✓ oder schreibe das richtige Ergebnis in das Feld hinter der Aufgabe.

$7 \cdot 6 = 42$	✓		$10 \cdot 6 = 60$	✓
$4 \cdot 6 = 22$	24		$3 \cdot 6 = 18$	✓
$9 \cdot 6 = 53$	54		$1 \cdot 6 = 6$	✓
$6 \cdot 6 = 36$	✓		$8 \cdot 6 = 42$	48
$2 \cdot 6 = 2$	12		$5 \cdot 6 = 28$	30