

Lernplan 1

Von 17.03. – 22.03.2020


Name:

GELD



MAL / GETEILT /
GETEILT MIT REST

Viel Freude beim Bearbeiten
wünscht dir deine Frau Weiser!

Achte natürlich auf
deine Heftführung! :o)



	Aufgaben	fertig	Kontrolle		
			😊	😐	😞
1	WELCHE SCHEINE / MÜNZEN GIBT ES? WELCHE GIBT ES NICHT? a) Male alle Euro-Scheine, die es gibt in dein Mathe-Heft b) Male alle Euro-Münzen, die es gibt in dein Mathe-Heft				
2	GELDBETRÄGE LEGEN ZB Buch S. 40 Nr. 3 a) Diese Aufgabe hast du schon in der Schule gemacht. Kontrolliere nochmal, ob es die Scheine /Münzen wirklich gibt, die du verwendet hast. b) f) 11€ g) 110€ h) 736 € i) 93 €★ j) 305 €★ Lege auch hierfür die Geldbeträge und finde zwei verschiedene Möglichkeiten. Schreibe in dein Heft. VERWENDE NUR SCHEINE UND MÜNZEN, DIE ES AUCH WIRKLICH GIBT!				
3	SCHAFFST DU ES, SO WENIG SCHEINE / MÜNZEN WIE MÖGLICH ZU VERWENDEN? ZB Buch S. 41 Nr. 5 a) ZB Buch S. 41 Nr. 5 b)★				
4★	SCHAFFST DU ES, SO WENIG SCHEINE / MÜNZEN WIE MÖGLICH ZU VERWENDEN? Erfinde selbst 3 Geldbeträge und verwende möglichst wenigen Scheiben und Münzen. Schreibe in dein Heft.				
5	WAS FEHLT? ZB Buch S. 41 Nr. 6 Hier kann dir der Rechenstrich helfen. 1. Fülle erst den Zehner auf - bis zum nächsten Hunderter. 2. Fülle dann den Hunderter auf bis 800. Beispiel: $360 € + 440 € = 800 €$				
6	WAS FEHLT? ZB Buch S. 41 Nr. 7 Hier kann dir der Rechenstrich helfen. 1. Fülle erst den Einer auf - bis zum nächsten Zehner. 2. Fülle dann den Zehner auf - bis zum nächsten Hunderter. 3. Fülle dann den Hunderter auf bis 500. Beispiel: $55 € + 445 € = 500 €$				
7	KANNST DU 200 EURO MIT EINEM, ZWEI, ... SCHEINEN LEGEN? ZB Buch S. 41 Nr. 8 c)				
8	SACHAUFGABE Frau Weiser kauft für ihre Schulkinder 7 Scheren und 9 Zeichenblöcke. Eine Schere kostet 5 € ein Zeichenblock kostet 2 €. Sie gibt dem Verkäufer 60 Euro. Wieviel bekommt sie zurück? Schreibe Rechnung und Antwort in dein Heft. Überlege • • + - Vielleicht kann dir eine Zeichnung helfen.				
9	Übe die 4er Reihe bis du sie ganz toll kannst! (MAL,GETEILT UND GETEILT MIT REST)				

 <p>Wenn du magst, kannst du hier üben</p> <p>Online...</p> <p>Ubungsmöglichkeiten</p>	<p>Schlaukopf Mathe Klasse 3 > kleines Einmaleins</p>	
	<p>Schlaukopf Mathe Klasse 3 > Division mit Rest</p>	
	<p>Schlaukopf Mathe Klasse 3 > Geld ★</p>	
	<p>App Blitzrechnen 3. Klasse (kann man sich für 1,09€ herunterladen, wenn man möchte)</p> <p>... oder als App</p> <p>Hier kannst du den Schwierigkeitsgrad und die Testzeit verändern.</p>	
 <p>Aufstiege</p>	<p>KANNST DU DAS MIT EINEM, ZWEI,... SCHEINEN LEGEN? ZB Buch S. 41 Nr. 8 a), b)</p>	
	<p>QUIZ ZB Buch S. 41 Nr. 9</p>	
	<p>QUIZ ZB Buch S. 41 Nr. 10</p>	
	<p>DAS DOPPELTE / DIE HALFTE ZB Buch S. 40 Nr.4</p>	