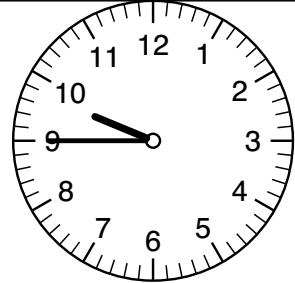
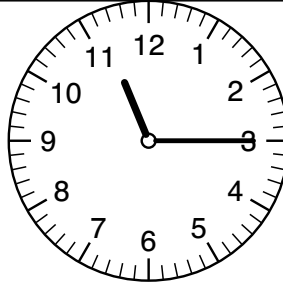
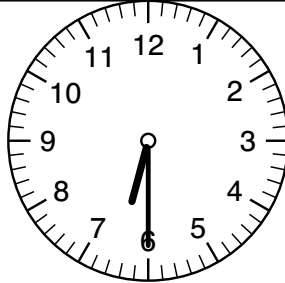
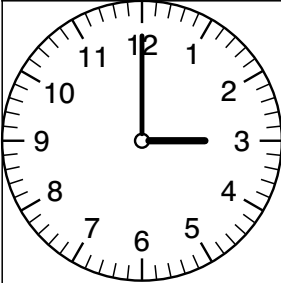


Name: _____

Datum: _____

Die Uhr- Wie spät ist es? (2)



_____ Uhr

_____ Uhr

_____ Uhr

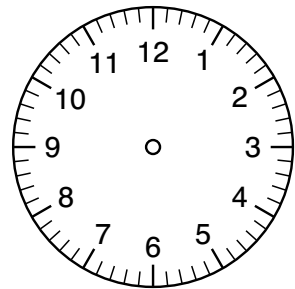
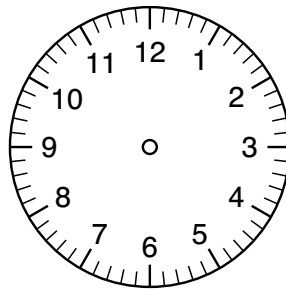

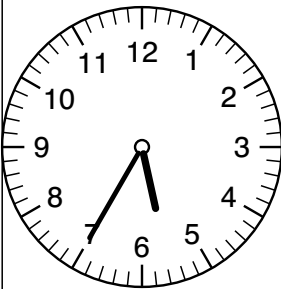
_____ Uhr

_____ Uhr

_____ Uhr

_____ Uhr

_____ Uhr



_____ Uhr

_____ Uhr

_____ Uhr

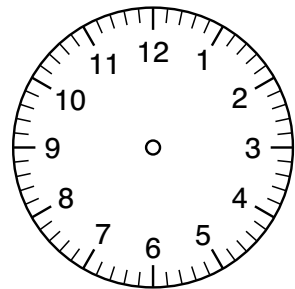
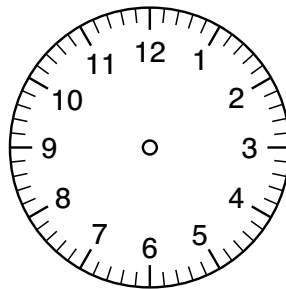
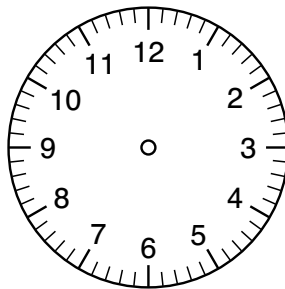
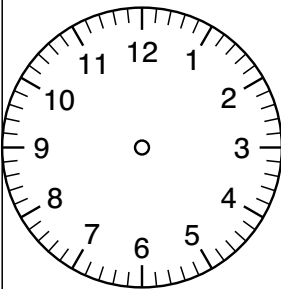
_____ Uhr

_____ Uhr

_____ Uhr

22:50 Uhr

18:30 Uhr



9:10 Uhr

9:05 Uhr

_____ Uhr


_____ Uhr

_____ Uhr

_____ Uhr

23:50 Uhr

16:50 Uhr



Wiederholungshelden 3


(Uhrzeiten (Teil 1))

Name: _____






Nummer: _____









Wie spät ist es? Gib beide Möglichkeiten an!




7.00 Uhr



19.00 Uhr




Wie viel Zeit ist vergangen ?




_____ Uhr

min →




_____ Uhr



_____ Uhr

min →





_____ Uhr




_____ Uhr

min →




_____ Uhr



_____ Uhr

min →



_____ Uhr

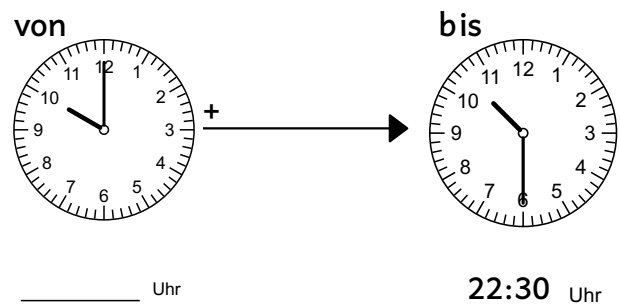
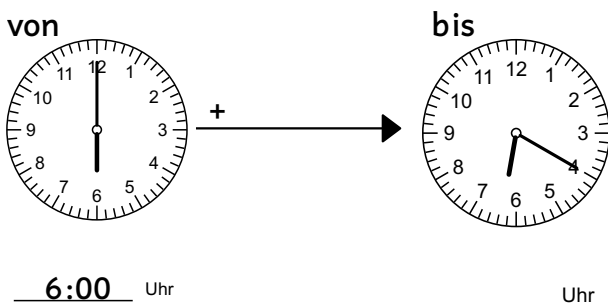
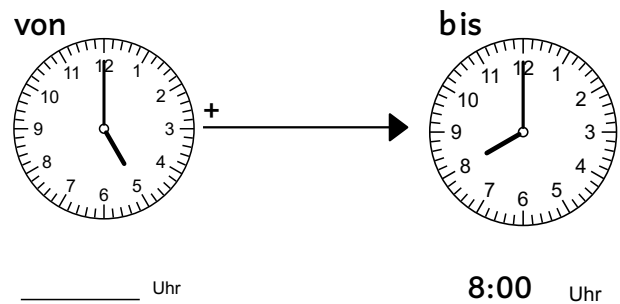
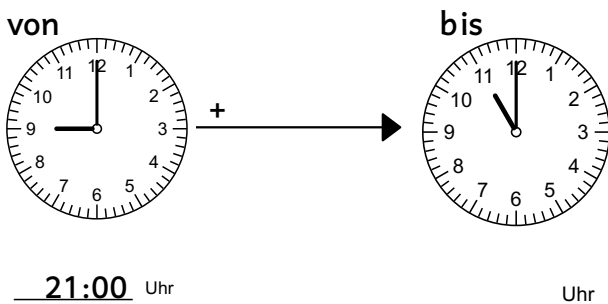
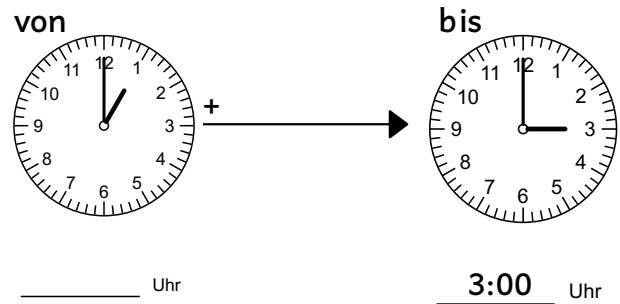
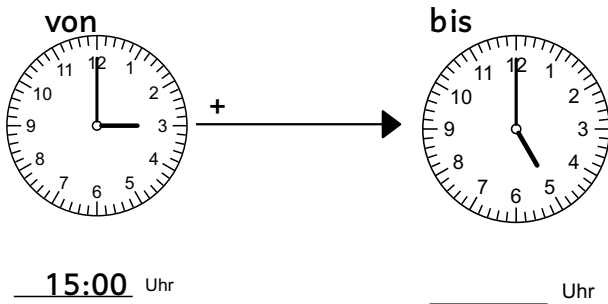
Name: _____

Abkürzungen: h - Stunde, min - Minuten



Zeitdauern berechnen - Wie viel Zeit ist vergangen?

1) Lies die Uhrzeit richtig ab und schreibe die Zeitdauer auf den Pfeil.



2) Berechne die Zeitdauer und schreibe sie auf den Pfeil.

14:00 Uhr + 16:00 Uhr

1:00 Uhr + 4:00 Uhr

17:00 Uhr + 18:00 Uhr

8:00 Uhr + 8:30 Uhr

3) Löse folgende Aufgaben.

1) Bens Mutter ruft: „Ben, um 20 Uhr gehst du ins Bett. Er schaut zur Uhr. Es ist 19:00 Uhr. Wie lange kann er noch spielen? _____

2) Pia geht zum Tanztraining. Es beginnt 17:00 Uhr und endet 19:00 Uhr. Wie lange dauert Pias Tanztraining? _____

Zeitaufgaben (Stunden und Minuten) 1

Löse die Aufgaben!



1) Jetzt ist es 09 : 15 Uhr. Wie spät ist es...

... in 15 Minuten? _____ : _____ Uhr

... in 30 Minuten? _____ : _____ Uhr

... in 1 Stunde? _____ : _____ Uhr

... in 25 Minuten? _____ : _____ Uhr

... in 2 Stunden? _____ : _____ Uhr

... in 5 Stunden? _____ : _____ Uhr

2) Jetzt ist es 10 : 15 Uhr. Wie spät ist es...

... in 15 Minuten? _____ : _____ Uhr

... in 30 Minuten? _____ : _____ Uhr

... in 1 Stunde? _____ : _____ Uhr

... in 25 Minuten? _____ : _____ Uhr

... in 2 Stunden? _____ : _____ Uhr

... in 5 Stunden? _____ : _____ Uhr

3) Jetzt ist es 02 : 30 Uhr. Wie spät **war** es...

... vor 15 Minuten? _____ : _____ Uhr

... vor 30 Minuten? _____ : _____ Uhr

... vor 1 Stunde? _____ : _____ Uhr

... vor 25 Minuten? _____ : _____ Uhr

... vor 2 Stunden? _____ : _____ Uhr

... vor 5 Minuten? _____ : _____ Uhr

4) Jetzt ist es 02 : 45 Uhr. Wie spät **war** es...

... vor 15 Minuten? _____ : _____ Uhr

... vor 30 Minuten? _____ : _____ Uhr

... vor 1 Stunde? _____ : _____ Uhr

... vor 25 Minuten? _____ : _____ Uhr

... vor 2 Stunden? _____ : _____ Uhr

... vor 5 Minuten? _____ : _____ Uhr